









SITUAÇÃO-PROBLEMA
IDEIA DE RETIRAR



1. O fazendeiro Manoel possui vários animais em sua fazenda. Ele resolveu vender alguns. Veja a ficha com algumas informações e ajude-o a preenchê-la, pois ele precisa dela para ter o controle de tudo.

TINHA	RETIROU (Escreva o numeral)	SOBRARAM	FICOU COM MAIS OU COM MENOS?
	<input data-bbox="670 1153 758 1243" type="text"/>		<p>() Mais</p> <p>() Menos</p>
	<input data-bbox="670 1568 758 1657" type="text"/>		<p>() Mais</p> <p>() Menos</p>

TINHA	RETIROU (Escreva o numeral)	SOBRARAM	FICOU COM MAIS OU COM MENOS?
	<input data-bbox="670 548 758 638" type="text"/>		<p>() Mais</p> <p>() Menos</p>
	<input data-bbox="670 1008 758 1097" type="text"/>		<p>() Mais</p> <p>() Menos</p>

2. Responda:

a) Quando retiramos (subtraímos) quantidades, que operação devemos fazer?

b) Qual é o sinal da subtração?

3. Faça as operações correspondentes à atividade 1:









4. Descubra 2 situações absurdas, marque-as com X e justifique:

a) Havia 7 bolinhas de gude no saquinho. Samuel retirou 10. Quantas sobraram?

b) Abel pescou 17 tilápias. Ele deu 8 para o seu vizinho. Com quantas tilápias Abel ficou?

c) Hugo pesava 64 quilos. Ele emagreceu 12 quilos. Qual é o peso de Hugo agora?

d) Ana Paula fez 45 rosquinhas de coco. Seus primos foram visitá-la e comeram 60. Quantas rosquinhas sobraram?



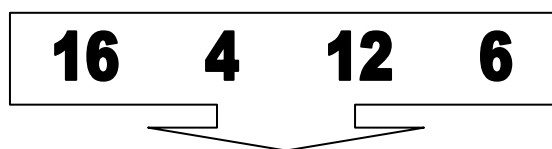
Justificativa:

5. Resolva as situações-problema da atividade 4 que não foram marcadas com X:

Operação	Resposta

Operação	Resposta

6. Resolva a situação-problema, mas antes escolha duas quantidades abaixo e complete-a:



a) Havia ____ passarinhos no abacateiro. Voaram _____. Quantos ficaram?

Operação	Resposta