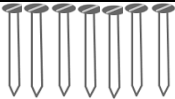


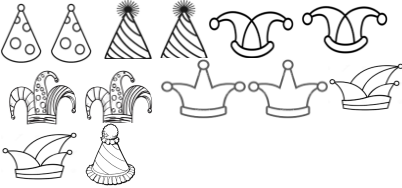
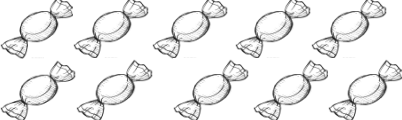




SITUAÇÃO-PROBLEMA
IDEIA DE COMPLETAR
QUANTO FALTA?

1. Resolva as atividades do quadro:

Situação-problema	Complete com desenho a quantidade que falta:	Resolva as operações e circule a que corresponde ao resultado correto:
Vicente precisa de 11 parafusos. Ele tem 7. Quantos faltam?		$\begin{array}{r} 11 \\ + 7 \\ \hline \end{array}$ $\begin{array}{r} 11 \\ - 7 \\ \hline \end{array}$
Na jarra de Daniela cabem 14 tulipas, mas ela só possui 5. Quantas ainda faltam?		$\begin{array}{r} 14 \\ + 5 \\ \hline \end{array}$ $\begin{array}{r} 14 \\ - 5 \\ \hline \end{array}$
Marina pretende entregar 17 bolas na creche. Ela conseguiu 11. Quantas bolas ainda faltam?		$\begin{array}{r} 17 \\ + 11 \\ \hline \end{array}$ $\begin{array}{r} 17 \\ - 11 \\ \hline \end{array}$
O palhaço Serenata tem 13 chapéus. Ele quer completar 25. Quantos chapéus faltam para adquirir?		$\begin{array}{r} 25 \\ + 13 \\ \hline \end{array}$ $\begin{array}{r} 25 \\ - 13 \\ \hline \end{array}$
Camila fez 10 bombons para colocar numa caixa que cabem 20. Quantos ainda faltam para ela fazer?		$\begin{array}{r} 20 \\ + 10 \\ \hline \end{array}$ $\begin{array}{r} 20 \\ - 10 \\ \hline \end{array}$

2. Qual é o nome da operação que você circulou na atividade anterior?



() Adição

() Subtração

3. Se eu tenho 8 laranjas, quantas faltam para completar:

10?	Desenho		Operação
	Tenho	Faltam	
12?	Desenho		Operação
	Tenho	Faltam	
15?	Desenho		Operação
	Tenho	Faltam	
17?	Desenho		Operação
	Tenho	Faltam	

4. Frederico tem 30 carrinhos. Quantos faltam para ele completar a sua coleção de 50 carrinhos?

Operação	Resposta
	Para Frederico completar a sua coleção, faltam _____ carrinhos.

5. Complete:

a) 3 para 12 faltam _____

d) 2 para 10 faltam _____

g) 8 para 16 faltam _____

b) 6 para 13 faltam _____

e) 5 para 7 faltam _____

h) 1 para 5 faltam _____

c) 9 para 11 faltam _____

f) 7 para 15 faltam _____

i) 9 para 17 faltam _____