


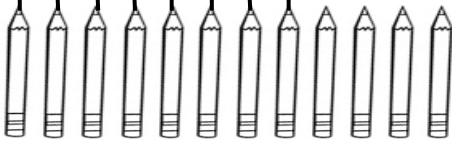
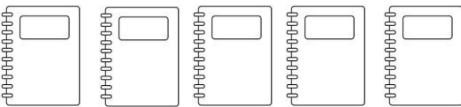
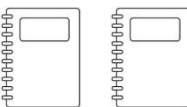





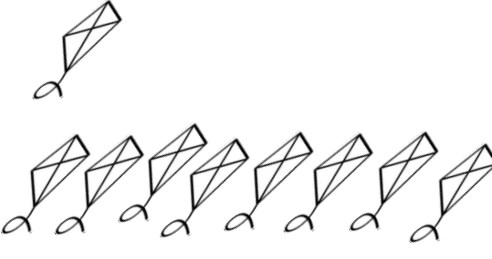


SITUAÇÃO-PROBLEMA
COMPARANDO DUAS QUANTIDADES





1. Compare as quantidades (ligando os elementos) e preencha o quadro:

Crianças	Elementos	Perguntas	Cálculo
Pedro		a) Quem tem mais lápis? _____	
Ricardo		b) Quantos lápis a mais? _____	
Luísa		a) Quem tem menos cadernos? _____	
Lucas		b) Quantos cadernos a menos? _____	
Marcela		a) Quem tem mais vidros de cola? _____	
Clara		b) Quantos vidros de cola a mais? _____	
Evandro		a) Quem tem menos cliques? _____	
Anselmo		b) Quantos cliques a menos? _____	

<p>Irene</p> <p>Beatriz</p>		<p>a) Qual é a diferença entre as quantidades de medalhas de Irene e as de Beatriz?</p> <p>_____</p>	
<p>Sérgio</p> <p>Antônio</p>		<p>a) Qual é a diferença entre as quantidades de pipas de Sérgio e as de Antônio?</p> <p>_____</p>	

2. Na atividade 1, para saber “quanto a mais” e “quanto a menos”, você comparou duas quantidades e encontrou a diferença entre elas. E que operação você fez?



3. Almir plantou 12 pés de repolho. Carlos plantou 16.

<p>a) Almir plantou _____</p> <p>b) Carlos plantou _____</p> <p>c) Quem plantou mais? _____</p> <p>d) Quantos pés de repolho Carlos plantou a mais que Almir? _____</p>	<p>e) Quantos pés de repolho Almir plantou a menos que Carlos? _____</p> <p>f) Qual é a diferença entre o número de pés de repolho plantados por Almir e o de Carlos? _____</p>
---	---

DESENHO	OPERAÇÃO
<p>Almir:</p> <p>Carlos:</p>	